

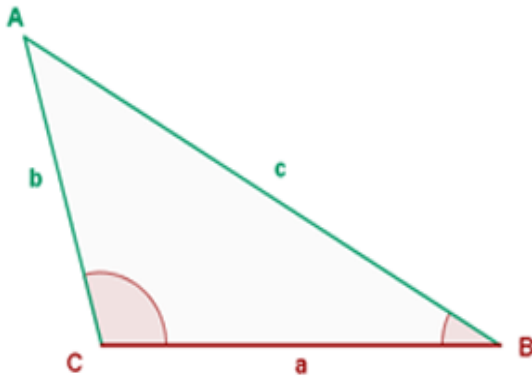


TALLER 3 DE GEOMETRIA SEPTIMO

TEMA: Propiedades de los triángulos 2

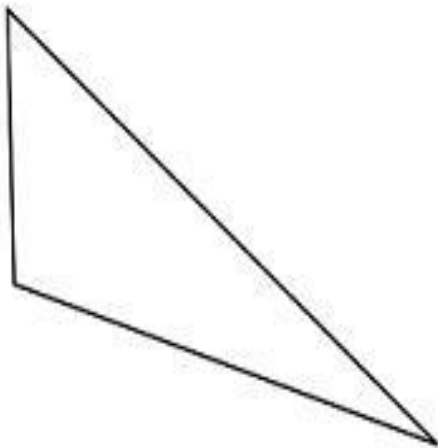
Actividad 1: Ubicar los lados y los ángulos en el triángulo

a.




87 cm
56 cm
23 cm
Ángulos
115°
35°
30°

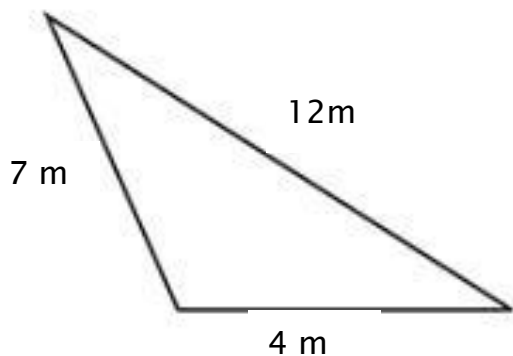
b.



120 cm
98 cm
56 cm
Ángulos
105°
25°
50°

	INSTITUCIÓN EDUCATIVA ENRIQUE OLAYA HERRERA	Código: GA-
	MATEMÁTICAS	Página __de__

Actividad 2: Comprobar si el triángulo se puede dibujar.



Actividad 3: Comprobar si los 3 triángulos de la siguiente figura se pueden dibujar.

