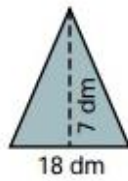




## TALLER 2 DE GEOMETRIA OCTAVO

Tema: Área y perímetro del triángulo

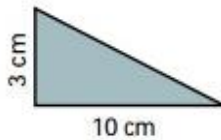
Actividad 1: Halla el área de los triángulos.



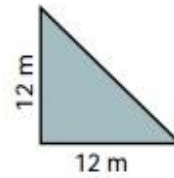
$$A = \frac{18 \times 7}{2} =$$



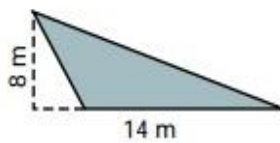
$$A =$$



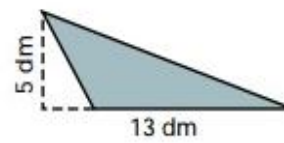
$$A =$$



$$A =$$



$$A =$$



$$A =$$



Actividad 2: Halla el perímetro de los siguientes triángulos. Exprésalas todas en cm

