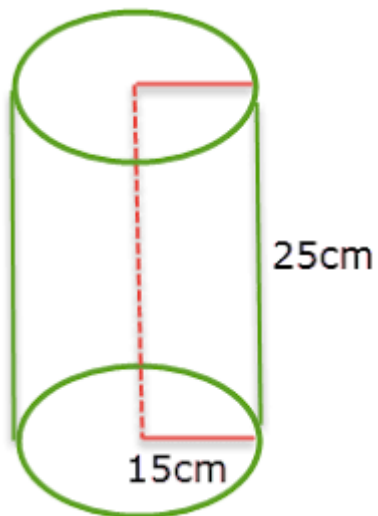




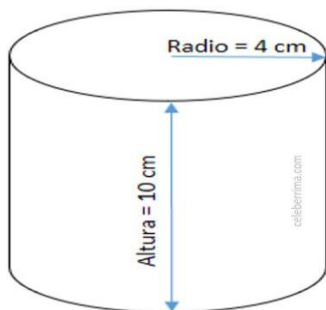
### TALLER DE GEOMETRIA GRADO NOVENO

Calcula el área y el volumen de cada una de Las figuras

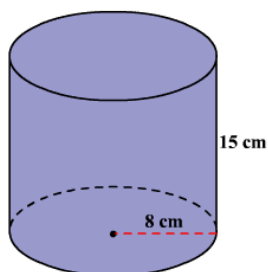
1.



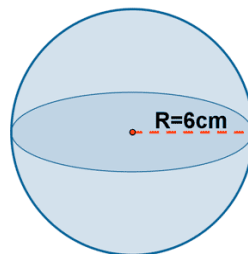
2.



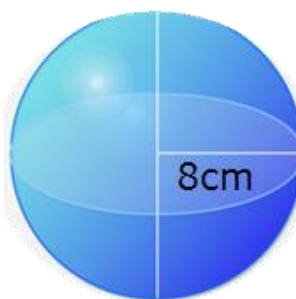
3.



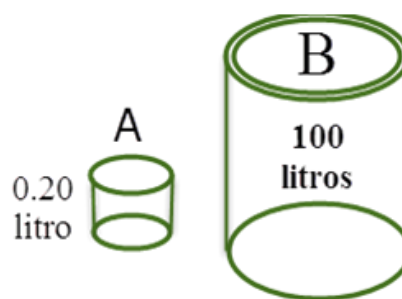
4.



5.



6. Se necesita llenar de agua un recipiente como el de la figura B, utilizando el recipiente A, ¿Cuantas veces debe llenarse el recipiente A para lograrlo?



7. Hallar el volumen de una botella esférica cuyo radio mide 11.3 m

INSTRUCCIÓN: Resolver y enviar fotos al correo [franglo2909@gmail.com](mailto:franglo2909@gmail.com), estudiar para sustentar al regreso a clases normal.

FECHA DE ENTREGA : MARZO 26 DE 2020